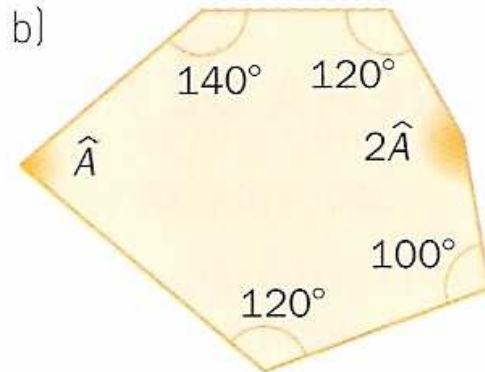
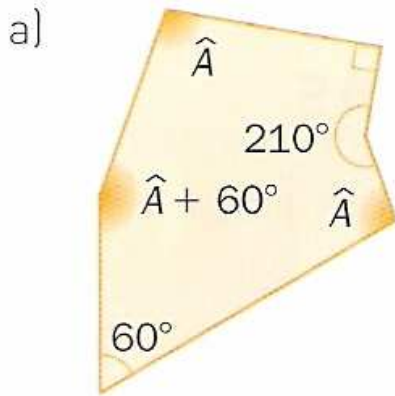


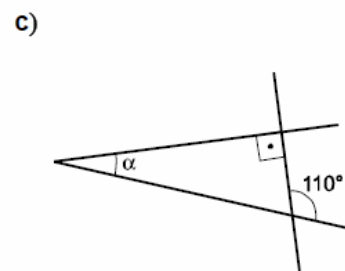
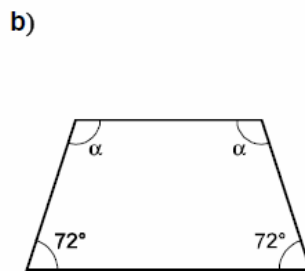


Nombre _____

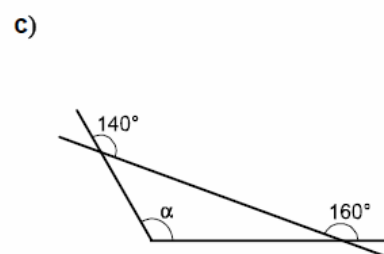
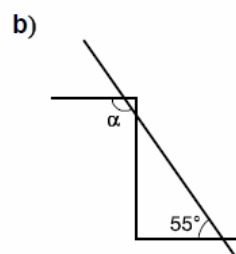
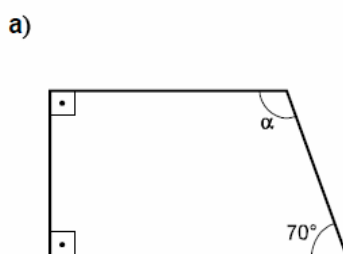
28 ¿Cuánto miden los ángulos designados por letras en estas figuras?



En los siguientes polígonos, halla la media del ángulo α :

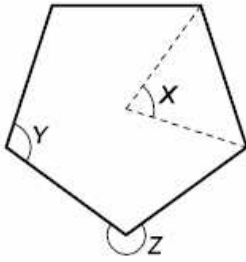


Halla el valor del ángulo α en cada uno de estos casos:

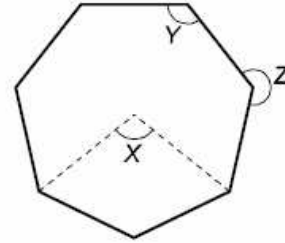


Halla el valor de \hat{X} , \hat{Y} , \hat{Z} , en los siguientes polígonos regulares:

a)

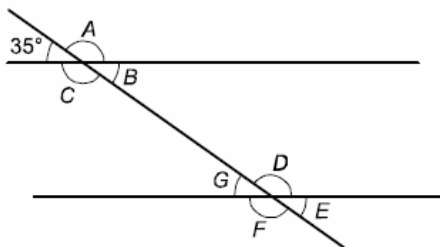


b)

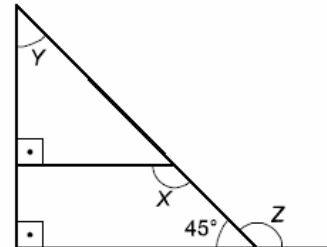


Calcula la medida de los ángulos desconocidos:

a)

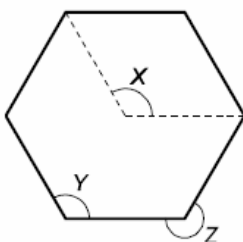


b)



Calcula el valor de \hat{X} , \hat{Y} , \hat{Z} , en los siguientes polígonos regulares:

a)



b)

